










## EJERCICIOS DE CONSTRUCCIÓN DE INTERVALOS (2)

1) Escribe la nota que falta para formar el intervalo indicado:

<p>3ª menor ascendente</p> 	<p>4ª justa ascendente</p> 	<p>4ª justa descendente</p> 	<p>6ª menor ascendente</p> 
<p>3ª menor ascendente</p> 	<p>3ª menor descendente</p> 	<p>6ª menor ascendente</p> 	<p>4ª justa ascendente</p> 

2) Escribe la nota que falta para formar el intervalo indicado:

<p>4ª justa ascendente</p> 	<p>4ª justa ascendente</p> 	<p>7ª menor ascendente</p> 	<p>4ª justa descendente</p> 
<p>6ª menor descendente</p> 	<p>2ª Mayor descendente</p> 	<p>2ª Mayor descendente</p> 	<p>4ª Aumentada Ascendente</p> 